

COMPRESIÓN DEL ENTORNO SOCIOCULTURAL
GUÍA DE REPASO PARA REALIZAR EN CLASE 35 ON LINE.
NO REALIZAR ANTES

OA (5): Comprender algunos relatos sociales sobre hechos significativos del pasado de su comunidad y país, apoyándose en recursos tales como: fotografías, videos, utensilios u objetos representativos.

Orientación a padres: Esta guía de repaso será desarrollada en la clase on line número 35. Por favor no realizarla antes. Propiciar un ambiente óptimo, fuera de distractores, para poder realizar la guía junto a la educadora y asistente.

NO REALIZAR LA GUÍA ANTES

Actividad Repaso: Todos los temas trabajados durante el segundo semestre.

SI TE CONCENTRAS AL REALIZARLA, TUS RESPUESTAS SERAN LAS MEJORES
 ¡¡¡TE LO ASEGURO!!!



CEC	Indicadores	Si	No
	1. Reconoce algunos personajes importantes de su país		
	2. Reconoce las profesiones		
	3. Reconoce los oficios		
	4. Logra reconocer imágenes alusivas a cada una de las zonas de su país		
	5. Dibuja en relación a los medios de transportes		
	6. Logra diferenciar los objetos tecnológicos compuestos y simples		
	7. Recuerda dibujando la leyenda vista		
	8. Utiliza el recurso del dibujo para mencionar a los miembros de su familia		





Guía de repaso para Evaluación final

Nombre:

Fecha:

- Encierra con una X la alternativa que tu creas correcta.





1. Personaje conocido como nuestro héroe naval.

			
Pablo Neruda	Arturo Prat	Bernardo O'Higgins	Diego Portales





2. Primera presidenta mujer de nuestro país.

			
Violeta Parra	Eloisa Díaz	Anita Lizana,	Michelle Bachelet


3. Primera mujer en estudiar la carrera de medicina en la Universidad de Chile.

			
Cristina Calderón	Eloisa Díaz	Violeta Parra	Anita Lizana,

4. ¿Cuál de las siguientes imágenes corresponden a oficios?

			
---	---	--	---

5. ¿Cuál de las siguientes imágenes corresponden a profesiones?



6. Marca las imágenes correspondientes a la zona norte de Chile.



7. Marca las imágenes correspondientes a la zona centro de Chile.




8. Marca las imágenes correspondientes a la zona sur de Chile.




9. Dibuja los medios de transportes en cuadrados que corresponde, según lo que indique su clasificación,

Terrestre	Aéreo	Marítimos

9. Pinta de color rojo los objetos tecnológicos compuestos y de color azul los objetos tecnológicos simples.



10. Dibuja los personajes la leyenda vista en clases.



11. Dibuja a cada uno de los miembros de tu familia

