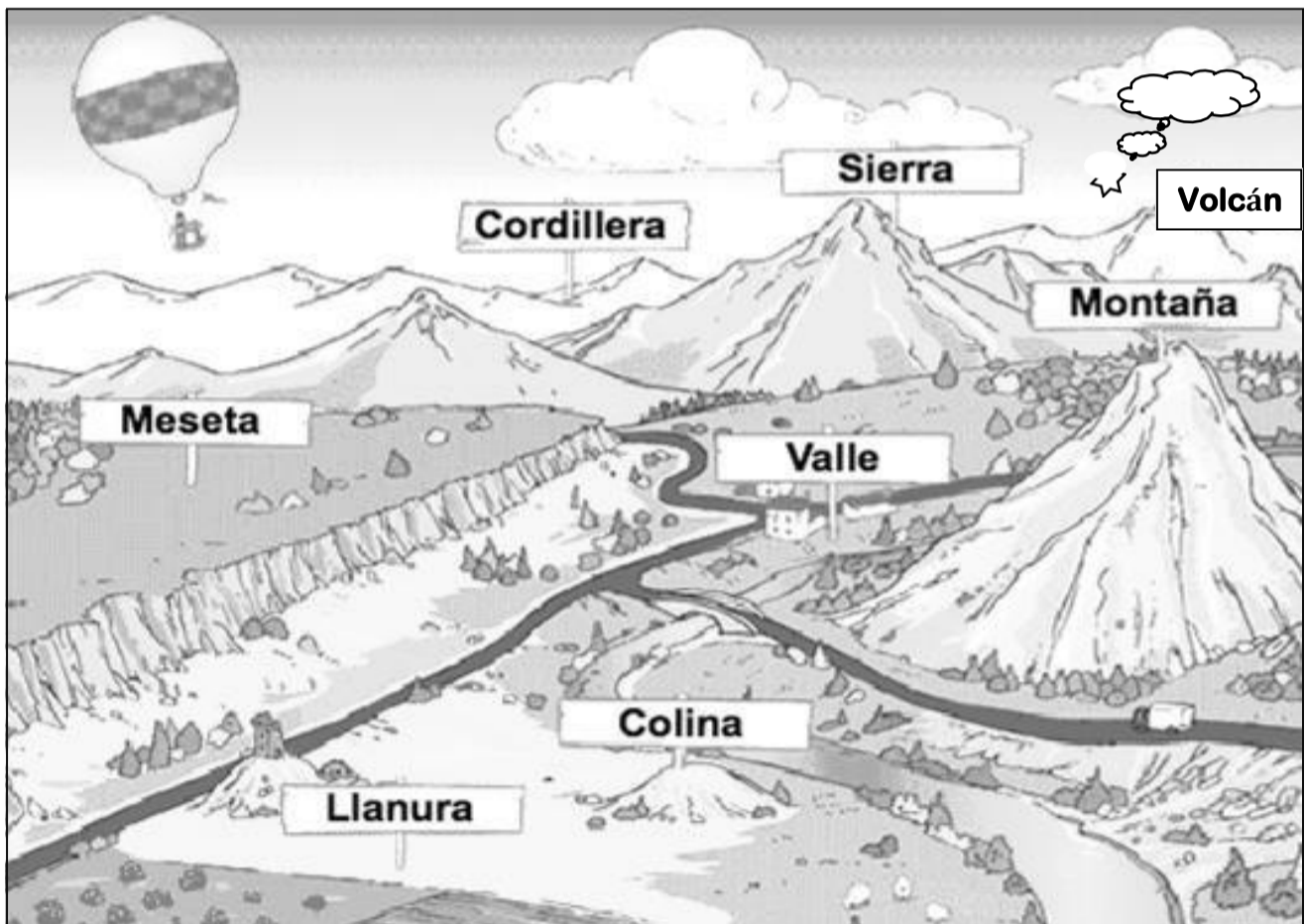




GUÍA DE TRABAJO EN CASA
Repaso “Paisajes y elementos del relieve de Chile”

<i>Nombre</i>	<i>Curso</i>	<i>Fecha</i>
	2º ____	____ / ____ / 2020
Tiempo estimado de trabajo: 40 minutos aproximadamente	Habilidad: Análisis y trabajo con fuentes.	
Objetivos de Aprendizaje: (OA 8) Clasificar y caracterizar algunos paisajes de Chile según su ubicación en la zona norte, centro y sur del país, observando imágenes, utilizando diversas fuentes y un vocabulario geográfico adecuado (océano, río, cordillera de los Andes y de la Costa, desierto, valle, costa, volcán, archipiélago, isla, fiordo, lago, ciudad y pueblo, entre otros).		

1. Observa y comenta estos paisajes.



2. Lea los siguientes conceptos. En lo posible trate de relacionar las imágenes anteriores o lo que ustedes conocen con la información entregada. Luego une con una línea cada imagen con la definición que corresponda.



Extensión de terreno plano que se caracteriza por su altura.



Parte de un continente, o de una isla, que limita con el mar.




Formación de la superficie terrestre por donde sale materia del interior a elevadas temperaturas.



Cadena de montañas enlazadas entre sí.



Parte baja y llana del terreno, entre montañas. Generalmente, lo recorre un río.



Corriente natural de agua continua que desemboca en otra similar, en un lago o en el mar.




Extensión de agua, generalmente dulce, rodeada de tierra.



Conjunto de islas.



Valle estrecho, excavado por un glaciar que fue invadido por el mar, dejando agua salada.



Porción de tierra rodeada de agua por todas partes.

Puedes complementar tu aprendizaje visitando las siguientes páginas de Youtube.

Texto escolar página 28

<https://www.youtube.com/watch?v=icttaUwZAcU>


<https://www.youtube.com/watch?v=KcbP0NcX2t4>

<https://www.youtube.com/watch?v=QZsLWPVgB1c>

https://www.youtube.com/watch?v=Bpl_1wm20us
https://www.youtube.com/watch?v=h5CSN_fgHAW

3.- En el dibujo, identifica las siguientes formas del relieve terrestre y escribe su nombre en cada


valle volcán mar meseta cordillera río montaña costa





4.- ¿Dónde se encuentra cada persona? Escribe el nombre que corresponda.

MONTAÑA - OCÉANO - BOSQUE - ISLA - DESIERTO - VOLCÁN



En _____




En _____



En _____



En _____



En _____



En _____