



**SOLUCIONARIO SEMANA 23 ACTIVIDAD 1**

**Guía N°19**

Nombre	Curso	Fecha
	2° A - B - C - D	____ / ____ / 2020
Tiempo estimado de trabajo 1 hora aproximadamente	Habilidad a trabajar Representar.	

Esteban está organizando su cumpleaños y quiere saber si la cantidad de bombillas es la misma que la cantidad de vasos que tiene.



- Une cada vaso con una bombilla. ¿Queda alguna bombilla o vaso sin unir?  Sí  No
- ¿Hay la misma cantidad de bombillas y vasos?, ¿por qué? **SI, PORQUE NO SOBRAN BOMBILLAS Y TAMPOCO VASOS.**
- Encierra la opción que completa la frase.

Sí  No, porque hay **12** bombillas y **12** vasos.

La cantidad de bombillas es  igual a  no es igual a la cantidad de vasos.

1. Une elemento a elemento y marca con un ✓ la respuesta. Aplicar

a. ¿Hay igual cantidad de agujas y de carretes de hilo?



Sí  
 No


b. ¿Hay igual cantidad de cepillos de diente y de pastas?



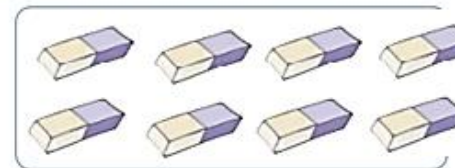
Sí  
 No

2. Dibuja los elementos que faltan para que la afirmación sea correcta. Analizar

a. Hay igual cantidad de niñas y de niños y de frutas.

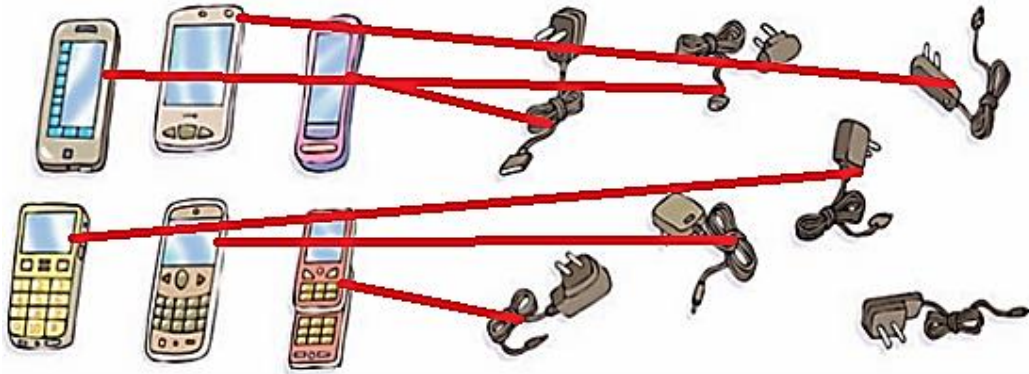


b. Hay igual cantidad de gomas de borrar y de lápices.





Observa y responde



• Une cada celular con un cargador. ¿Queda algún cargador o celular sin unir?  Sí  No

• ¿Hay igual cantidad de celulares y de cargadores?, ¿por qué?

Sí  No, porque hay  celulares y  cargadores.

• Encierra la opción que completa la frase.

La cantidad de celulares  la cantidad de cargadores.

Educando en valores



Recuerda que puedes reciclar celulares y así ayudar con el cuidado del planeta.



1. Compara y encierra la palabra correcta.

a.

b.

2. Dibuja las bolitas necesarias para que se cumpla cada frase.

a. La cantidad de bolitas del frasco 1 es menor que la del frasco 2.



b. La cantidad de bolitas del frasco 1 es mayor que la del frasco 2.

