



Matemática Primeros Básicos
FAMILIA DEL 70
(SETENTA)

Nombre	Curso	Fecha
	1° ____	SEMANA DEL 26 DE OCTUBRE 2020

1. Completa con los números que faltan:

71



79


--	--	--	--	--	--	--	--	--	--

2. Escribe en palabras los números hasta 79:

Números	En palabras
70	SETENTA
71	
72	

73	
74	
75	
76	
77	
78	
79	

3. Representa en decenas  y unidades  los números desde el 70 al 79:

Número	Representación
70	
71	

72

73

74

75

76

77

78

79