



Matemática
Primeros Básicos
FAMILIA DEL 60
(SESENTA)

Nombre	Curso	Fecha
	1º ____	____/____/ 2020



1. Completa con los números que faltan:


--	--	--	--	--	--	--	--	--	--

2. Escribe en palabras los números hasta 69:

Números	En palabras
60	
61	

62	
63	
64	
65	
66	
67	
68	
69	

3. Representa en decenas  y unidades  los números desde el 60 al 69.

Número	Representación
60	

61	
62	
63	
64	
65	

66

67

68

69