



Matemática
Primeros Básicos
FAMILIA DEL 50

Nombre	Curso	Fecha
	1º ____	SEMANA DEL 12 DE OCTUBRE 2020



1. Completa con los números que faltan:

--	--	--	--	--	--	--	--	--	--

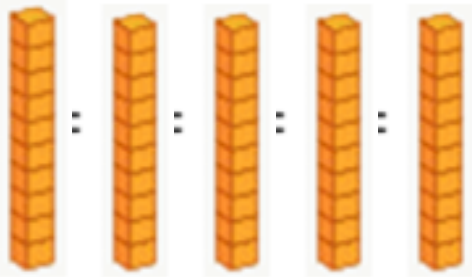
2. Escribe en palabras los números hasta 59.

Números	En palabras
50	
51	

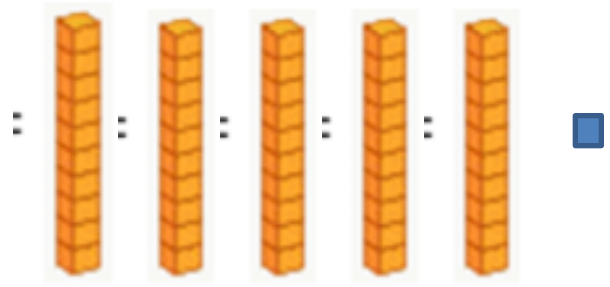
52	
53	
54	
55	
56	
57	
58	
59	

3. Representa en decenas  y unidades  los números desde el 50 al 59.

4.

Número	Representación
50	

51



52

53

54

55

56

57

58

59