



Solucionario SEMANA 17 Actividad 1




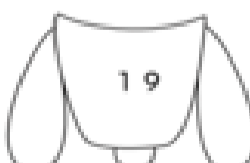
Guía N° 13

Nombre	Curso	Fecha
	2° A - B - C - D	____ / ____ / 2020
Tiempo estimado de trabajo 45 minutos aproximadamente	Habilidad a trabajar: Argumentar.	

Objetivo de Aprendizaje:

OA9: Demostrar que comprende la adición y la sustracción en el ámbito del 0 al 100: › usando un lenguaje cotidiano y matemático para describir acciones desde su propia experiencia › resolviendo problemas con una variedad de representaciones concretas y pictóricas, incluyendo software educativo › registrando el proceso en forma simbólica › aplicando los resultados de las adiciones de los números del 0 al 20 sin realizar cálculos › aplicando el algoritmo de la adición sin considerar reserva › creando problemas matemáticos en contextos familiares y resolviéndolos.

I.- Resta y une con una línea la parte de arriba y la parte de debajo de cada cohete.

$\begin{array}{r} 54 \\ - 35 \\ \hline 19 \end{array}$		
$\begin{array}{r} 80 \\ - 68 \\ \hline \end{array}$		
$\begin{array}{r} 55 \\ - 46 \\ \hline \end{array}$		
$\begin{array}{r} 57 \\ - 39 \\ \hline \end{array}$		



II.- Resuelve las siguientes sustracciones.

$$\begin{array}{r} 99 \\ - 40 \\ \hline 59 \end{array}$$

$$\begin{array}{r} 53 \\ - 38 \\ \hline 15 \end{array}$$

$$\begin{array}{r} 76 \\ - 28 \\ \hline 48 \end{array}$$

$$\begin{array}{r} 80 \\ - 78 \\ \hline 01 \end{array}$$

$$\begin{array}{r} 89 \\ - 53 \\ \hline 36 \end{array}$$

$$\begin{array}{r} 86 \\ - 45 \\ \hline 41 \end{array}$$

$$\begin{array}{r} 66 \\ - 24 \\ \hline 42 \end{array}$$

$$\begin{array}{r} 74 \\ - 52 \\ \hline 22 \end{array}$$

$$\begin{array}{r} 57 \\ - 45 \\ \hline 12 \end{array}$$

$$\begin{array}{r} 66 \\ - 28 \\ \hline 38 \end{array}$$

$$\begin{array}{r} 71 \\ - 36 \\ \hline 35 \end{array}$$

$$\begin{array}{r} 88 \\ - 69 \\ \hline 19 \end{array}$$

$$\begin{array}{r} 47 \\ - 19 \\ \hline 28 \end{array}$$

$$\begin{array}{r} 65 \\ - 46 \\ \hline 19 \end{array}$$

$$\begin{array}{r} 55 \\ - 45 \\ \hline 10 \end{array}$$

III. Resta y escribe la respuesta correcta en cada roca.

