



Historia y Geografía y Cs. Sociales

Guía Nº 18 “Nos ubicamos en el espacio”

“CHILE Y SUS REGIONES”

Trabajo en el hogar

Nombre: (Escribe tu nombre y apellido, con letra manuscrita, mayúscula y destacada con ron rojo la letra inicial)	Curso:	Fecha:
	1º A, B, C, D	____/____/2020

Objetivo de Aprendizaje:
 Identificar a Chile en mapas, incluyendo la cordillera de los Andes, el océano Pacífico, su región, su capital y su localidad.
 (OA 9)

Hola pequeños, ¿cómo están?
 Hoy avanzaremos en nuestros aprendizajes, conociendo nuestro país.

Actividad Nº 1: Trabajo en tu texto del estudiante páginas 86 y 87.

Observa las imágenes y luego responde las preguntas en tu cuaderno. No olvides colocar la fecha.

LECCIÓN 2

Chile tiene 16 regiones, cada una con características únicas.



Desierto de Atacama.



* Acuerdo de 1998




Chiloé.

- 1 ¿Cuántas regiones tiene Chile?
- 2 ¿En qué región vives tú?
- 3 Describe en tu cuaderno cada una de estas fotos.


86

Actividad N°2: Realiza la actividad de evaluación que está al final de esta página en el **mapa mudo que está en la próxima hoja que debes imprimir para trabajar en ella.**

Unidad **3**





Valles centrales.



Cordillera de los Andes.

Actividad de evaluación

En un mapa mudo de Chile escribe el nombre de las regiones.

1. Pinta de  la región donde se encuentra la capital de Chile.
2. Pinta de  el nombre de tu región.
3. ¿Cuántas regiones hay por arriba de Santiago?
4. ¿Cuántas regiones hay por debajo de Santiago?

Escribo y leo 1. *¿Qué es y para qué sirve un mapa?*

2. *¿Cómo has hecho para aprender todas las regiones de Chile?*

87

Mapa mudo para imprimir y trabajar



Mapa mudo de Chile y sus regiones

