



Educación Matemática
Primeros Básicos
Comparar números

Nombre	Curso	Fecha
	1º ____	____/____/ 2020

Objetivo de Aprendizaje:

OA 04



Comparar y ordenar números del 0 al 20 de menor a mayor y/o viceversa, utilizando material concreto y/o usando software educativo.


1. ¿Qué grupo tiene la misma cantidad de elementos? Enciérralos en un óvalo.

(a)



(b)





2. ¿Cuáles son los dos grupos que tienen la misma cantidad de objetos?

Únelos a un mismo

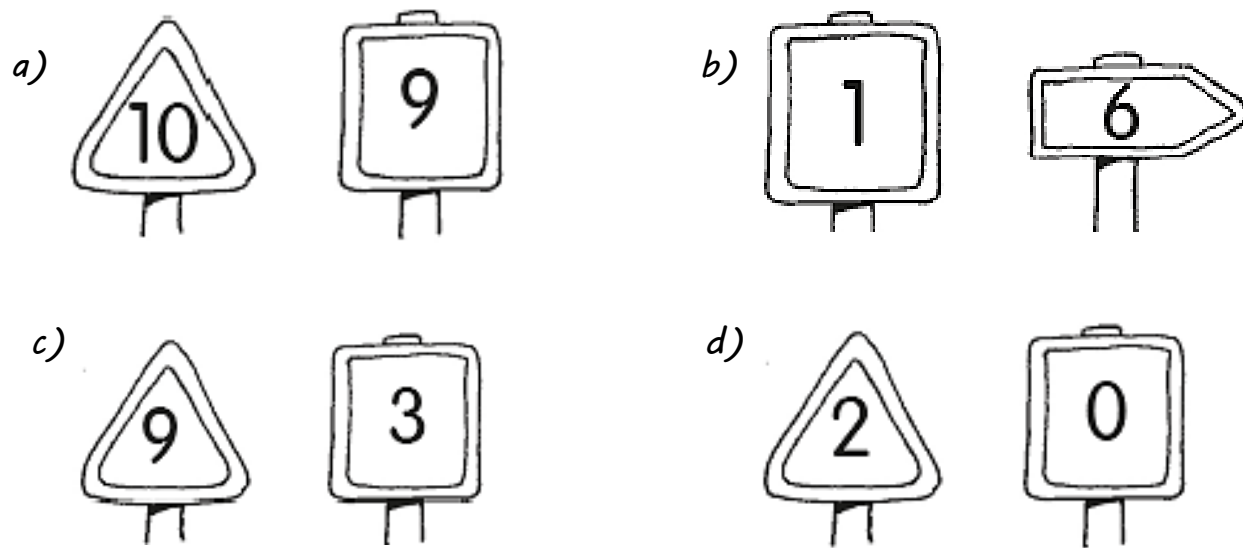
Escribe el número en el

The matching exercise consists of seven groups of objects on the left and seven empty boxes on the right. A line connects the group of 3 pencils to the box containing the number 3. The other groups and boxes are as follows:

- Group 1: 3 pencils
- Group 2: 5 rulers
- Group 3: 3 erasers
- Group 4: 6 pushpins
- Group 5: 5 paper clips
- Group 6: 6 books
- Group 7: 3 books

On the right side, there are seven empty boxes. The top box contains the number 3. The other boxes are empty.

3. Pinta el signo que tenga el número mayor.



4. Pinta el banderín que tenga el número menor.

