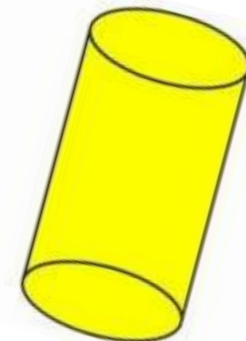
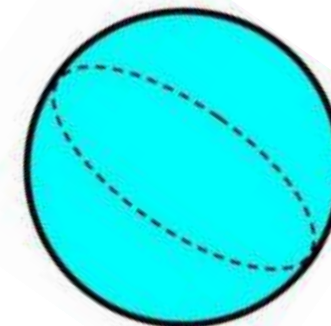
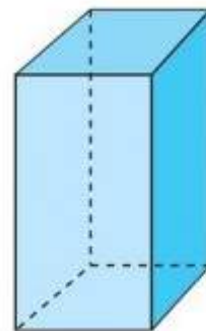

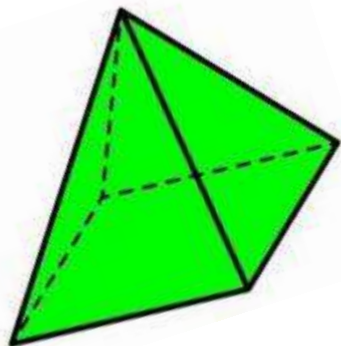


# Geometría 7

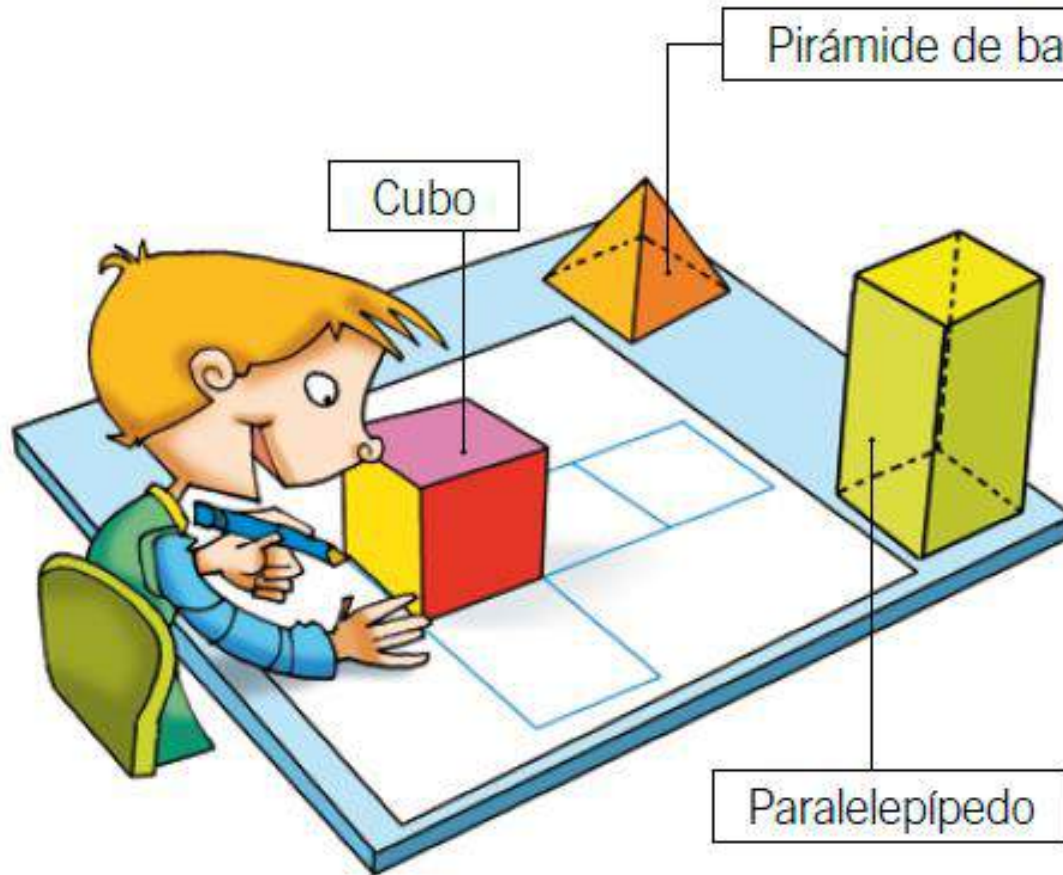


Objetivo: Relacionar figuras y cuerpos geométricos.



# Observa la situación y responde en voz alta:

## Relación entre figuras y cuerpos



- ¿Qué cuerpo geométrico tiene solo caras que son cuadrados? Escribe su nombre.
- ¿A qué figuras geométricas corresponden las caras del paralelepípedo? Escribe sus nombres.

¿Qué figuras geométricas que corresponden a las caras de la pirámide de base cuadrada ?



# Ahora observa el siguiente video

<https://www.youtube.com/watch?v=XPRSONHI-bQ&t=162s>






Ahora escribe en tu cuaderno:

## Relación entre figuras y cuerpos

Las caras de algunos cuerpos geométricos corresponden a figuras geométricas.

Por ejemplo:

Pirámide de base cuadrada	Cara basal	Caras laterales
	 Cuadrado	 Triángulos



---

Finalmente trabaja en tu  
guía: “Relación entre  
figuras y cuerpos  
geométricos”



**SI EL PLAN.**  
*no funciona*  
**CAMBIA**  
**EL PLAN**  
*pero no cambies*  
**LA META.**

