



SEMANA 9 ACTIVIDAD 1

Guía N°10 Unidad 1

(Adiciones CON canje)

Nombre	Curso	Fecha
	2° A-B-C-D	____ / ____ / 2020
Tiempo estimado de trabajo 1 hora aproximadamente	Habilidad a trabajar	

OA9: Demostrar que comprende la adición y la sustracción en el ámbito del 0 al 100:

- › usando un lenguaje cotidiano y matemático para describir acciones desde su propia experiencia.
- › resolviendo problemas con una variedad de representaciones concretas y pictóricas, incluyendo software educativo.
- › registrando el proceso en forma simbólica.
- › aplicando los resultados de las adiciones de los números del 0 al 20 sin realizar cálculos.
- › aplicando el algoritmo de la adición sin considerar reserva
- › creando problemas matemáticos en contextos familiares y resolviéndolos

I.- Pepo y sus amigos van de visita al espacio exterior. ¿En qué tipo de vehículo viajan?
Suma y averigüalo escribiendo las letras que corresponden a los resultados.

$$\begin{array}{r} 408 \\ + 83 \\ \hline 491 \end{array} \quad \text{A}$$


$$\begin{array}{r} 66 \\ + 806 \\ \hline 872 \end{array} \quad \text{C}$$

$$\begin{array}{r} 507 \\ + 187 \\ \hline 694 \end{array} \quad \text{E}$$


$$\begin{array}{r} 139 \\ + 56 \\ \hline 195 \end{array} \quad \text{I}$$

$$\begin{array}{r} 236 \\ + 655 \\ \hline 891 \end{array} \quad \text{N}$$

$$\begin{array}{r} 126 \\ + 657 \\ \hline 783 \end{array} \quad \text{V}$$





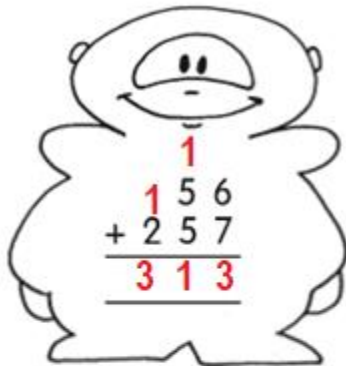


II.- Suma y encuentra las edades de los robots.





III. ¿De quién son estos juguetes?

Suma y forma parejas, entre cada juguete y su dueño.



IV.- Resuelve el siguiente problema.

Marcelo hizo 447 brochetas de cerdo.
 Además, él hizo 46 brochetas de pollo.
 ¿Cuántos brochetas hizo Marcelo en total?

<p>DATOS</p> <p>447 BROCHETAS DE _____</p> <p>CERDO Y 46 DE POLLO _____</p> <p>_____</p>	<p>OPERATORIA</p> <table border="1" style="float: right;"> <tr> <td></td> <td>C</td> <td>D</td> <td>U</td> </tr> <tr> <td></td> <td>4</td> <td>4</td> <td>7</td> </tr> <tr> <td>+</td> <td></td> <td></td> <td>46</td> </tr> <tr> <td></td> <td>4</td> <td>9</td> <td>3</td> </tr> </table>		C	D	U		4	4	7	+			46		4	9	3
	C	D	U														
	4	4	7														
+			46														
	4	9	3														
<p>OPERACION</p> <p>ADICION _____</p>	<p>RESPUESTA</p> <p>HIZO EN TOTAL 493 BROCHETAS _____</p>																