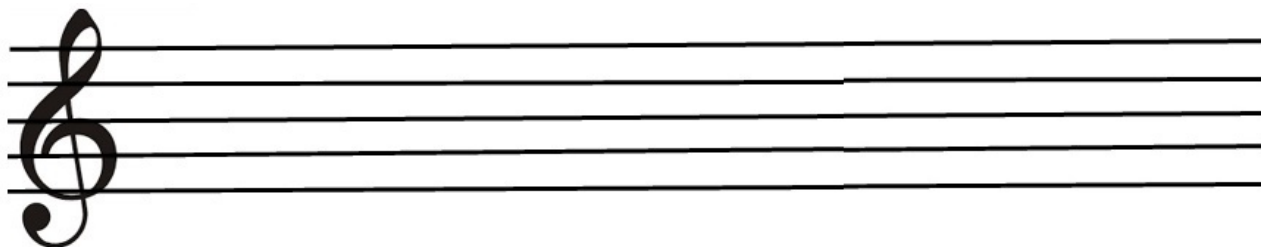


# SOLUCIONARIO guía N° 1

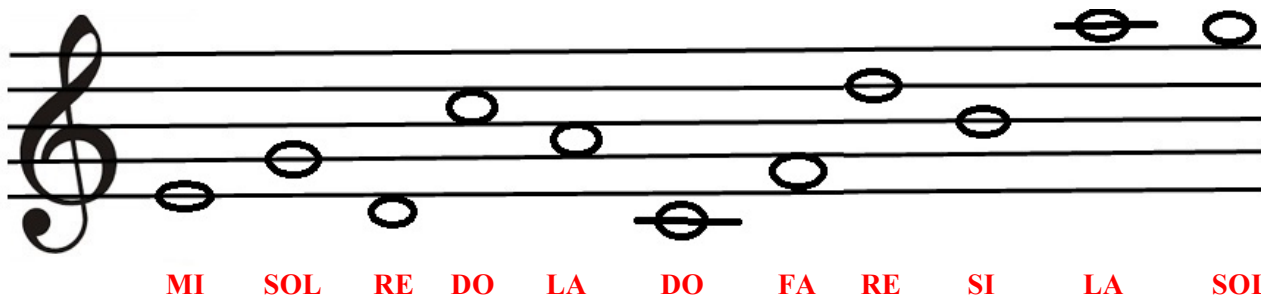
**Objetivo:** Conocer y ubicar notas musicales en el pentagrama.

## TEORÍA MUSICAL

1) Dibuje 5 veces la llave de sol en el pentagrama.



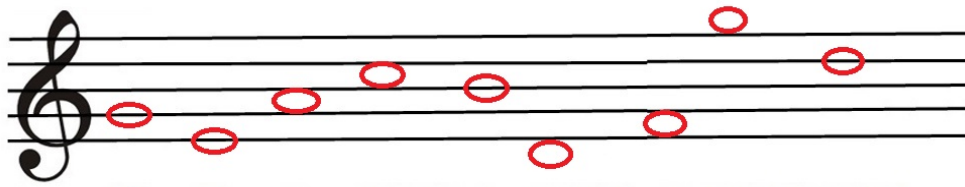
2) Escriba el nombre de las siguientes notas musicales.



3) Indique el nombre de la nota musical, de acuerdo a su ubicación.

Nota ubicada en el segundo espacio	..... <b>LA</b> .....
Nota ubicada en la quinta línea	..... <b>FA</b> <b>alto</b> .....
Nota ubicada en el tercer espacio	..... <b>DO</b> .....
Nota ubicada en la cuarta línea	..... <b>RE</b> <b>alto</b> .....
Nota ubicada en el primer espacio	..... <b>FA</b> .....
Nota ubicada en la segunda línea	..... <b>SOL</b> .....
Nota ubicada en la primera línea	..... <b>MI</b> .....
Nota ubicada en la tercera línea	..... <b>SI</b> .....
Nota ubicada en el cuarto espacio	..... <b>MI</b> <b>alto</b> .....

4) Dibuje en el pentagrama la siguiente secuencia de notas musicales.



SOL MI LA DO(alto) SI DO(bajo) FA SOL(alto) RE(alto)