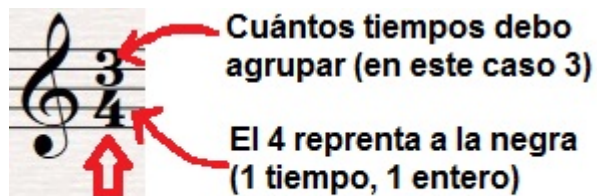


Objetivos: Aplicar cifra indicadora en compases de figuras rítmicas

Guía Número 4

Teoría Musical


Recordemos que la **Cifra indicadora** nos señala cuántos tiempos debo agrupar por cada compás, siendo el numerador quien nos indica la cantidad y el denominador el tipo de figura-



Esta cifra indicadora es de **tres cuartos (3/4)**, es decir, la cifra me solicita que junte **3** tiempos de negra (3 enteros) en cada compás. Cada 3 tiempos se repetirá un acento musical.

Cifra indicadora

Compás $\frac{3}{4}$



La negra con punto dura 1 tiempo y medio ($1 \frac{1}{2}$) la corchea dura $\frac{1}{2}$ y el saltillo 1 tiempo, lo que sumado me completa los 3 tiempos (3 enteros) que me solicita la cifra indicadora de $\frac{3}{4}$ (tres cuartos).

Actividad

De acuerdo a la cantidad de tiempos de cada compás señale cuál es su cifra indicadora.

EJEMPLO



La respuesta es **4/4 (cuatro cuartos)**



a)




b)




c)




d)




e)




f)



g)



h)



i)

