



COLEGIO
SAN CARLOS
QUILICURA

LOS GRÁFICOS

Actividad N°2

UNIDAD 1

CURSO: 6° básico

ASIGNATURA: Tecnología

PROFESOR: Cristian Machuca Vargas

OBJETIVOS DE LAS CLASE

(OA 5) Usar software para organizar y comunicar los resultados de investigaciones e intercambiar ideas con diferentes propósitos, mediante: programas de presentación para mostrar imágenes, diagramas y textos, entre otros; hojas de cálculo para elaborar tablas de doble entrada y diseñar gráficos de barra simple y doble, circulares y de línea, entre otros.

Objetivo de la actividad:

Identificar los tipos de gráficos
Conocer los diferentes, para que se ocupan y cuando son aplicados.



Los gráficos son :

(Aquí debes escribir que son los gráficos, resumir con tus propias palabras):

¡Ahora debes utilizar los gráficos de la actividad 1!

Busca en internet diferentes noticias en las cuales aparezcan gráficos. (3 noticias con diferentes gráficos)

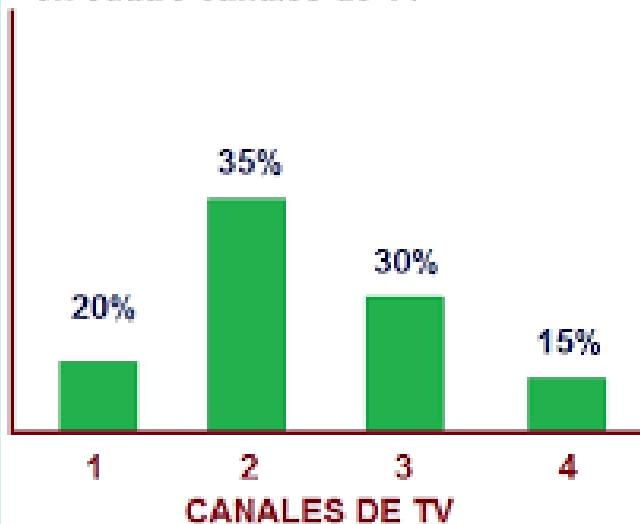


Noticia N°1



ERRORES ESTADÍSTICOS

Porcentajes de audiencia del telediario en cuatro canales de TV



¿A qué gráfico pertenece?
Y también debes justificar la respuesta, para esto debes observar bien la imagen de tu noticia e insertarla en el PPT.

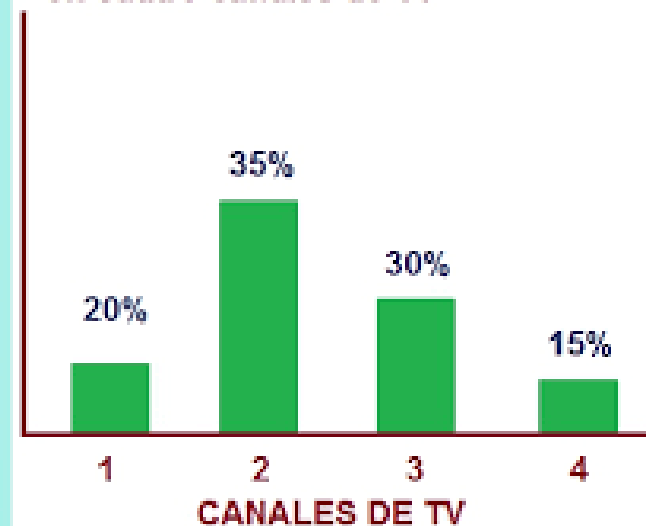
Noticia N°2



¿A qué gráfico pertenece?
Y también debes justificar
la respuesta, para esto
debes observar bien la
imagen de tu noticia e
insertarla en el PPT.

ERRORES ESTADÍSTICOS

Porcentajes de audiencia del telediarario
en cuatro canales de TV

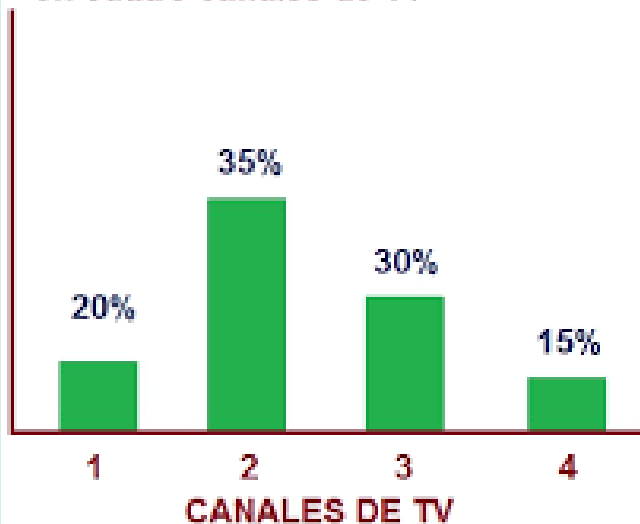


Noticia N°3



ERRORES ESTADÍSTICOS

Porcentajes de audiencia del telediario en cuatro canales de TV



¿A qué gráfico pertenece?
Y también debes justificar la respuesta, para esto debes observar bien la imagen de tú noticia y insertarla en el PPT.

BITÁCORA DE APRENDIZAJE

¿Qué aprendí?

¿Cómo lo aprendí?

¿De qué me sirve?