

GUÍA CONTAR NUMEROS HASTA 100

Nombre:	Curso:	Fecha:
---------	--------	--------

OBJETIVO DE APRENDIZAJE: OA1

I.- Completa la tabla de 100 con los números que faltan, puedes utilizar la tabla de 100 del ejercicio anterior para guiarte.

1	2		4		6	7	8		10
	12		14	15	16	17	18	19	20
	22		24	25		27	28	29	
31	32	33		35		37	38	39	40
41		43	44	45	46	47			50
51		53	54	55	56	57	58	59	
		63	64		66	67	68		
71	72	73	74	75			78	79	80
81	82		84		86	87	88		90
	92	93	94	95			98	99	

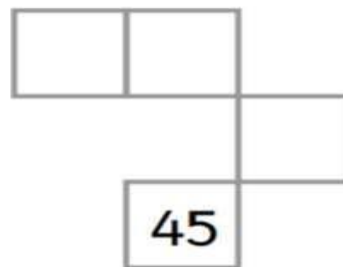
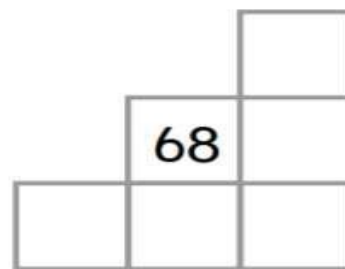
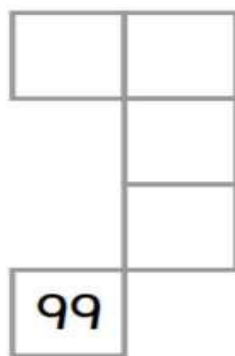
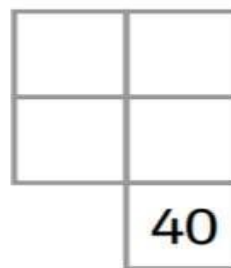
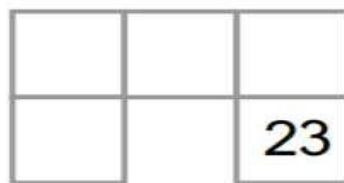
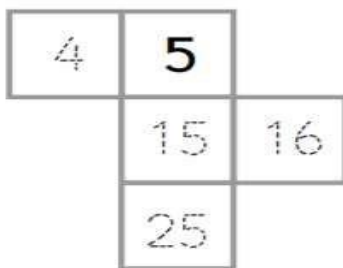
II.- Pinta la tabla de 100 siguiendo las instrucciones:

- Pinta de azul los recuadros contando 2 en 2 hasta 100, partiendo del 1.
- Pinta de rojo los recuadros contando 5 en 5 hasta 100, partiendo del 1.
- Pinta de verde los recuadros contando 10 en 10 hasta 100, partiendo del 1.

1	2	3	4	5	6	7	8	9	10
11	12	13	14	15	16	17	18	19	20
21	22	23	24	25	26	27	28	29	30
31	32	33	34	35	36	37	38	39	40
41	42	43	44	45	46	47	48	49	50
51	52	53	54	55	56	57	58	59	60
61	62	63	64	65	66	67	68	69	70
71	72	73	74	75	76	77	78	79	80
81	82	83	84	85	86	87	88	89	90
91	92	93	94	95	96	97	98	99	100

II.- Usa la tabla del 100 para completar estas partes de la tabla.

1	2	3	4	5	6	7	8	9	10
11	12	13	14	15	16	17	18	19	20
21	22	23	24	25	26	27	28	29	30
31	32	33	34	35	36	37	38	39	40
41	42	43	44	45	46	47	48	49	50
51	52	53	54	55	56	57	58	59	60
61	62	63	64	65	66	67	68	69	70
71	72	73	74	75	76	77	78	79	80
81	82	83	84	85	86	87	88	89	90
91	92	93	94	95	96	97	98	99	100



IV.- Usa la tabla del 100 para averiguar 1 menos, 1 más, 10 menos, 10 más.

1	2	3	4	5	6	7	8	9	10
11	12	13	14	15	16	17	18	19	20
21	22	23	24	25	26	27	28	29	30
31	32	33	34	35	36	37	38	39	40
41	42	43	44	45	46	47	48	49	50
51	52	53	54	55	56	57	58	59	60
61	62	63	64	65	66	67	68	69	70
71	72	73	74	75	76	77	78	79	80
81	82	83	84	85	86	87	88	89	90
91	92	93	94	95	96	97	98	99	100

