

# Geometría 1

Objetivo: Reconocer líneas rectas, curvas y figuras geométricas .

Profesora Vania Aróstica

2020



Recordemos a partir de las siguientes situaciones:

Observa y responde

Línea 1



Línea 2





- Si pones una regla al lado de cada línea, ¿cuál sigue su forma? Encierra tu respuesta.



## Observa y responde



- ¿Qué parte del tren está formada solo por líneas curvas? Píntalas con .
- ¿Qué parte del tren está formada solo por líneas rectas? Píntalas con .
- ¿A qué figura geométrica se asemeja la chimenea del tren? Enciérrala.



Para reafirmar tu aprendizaje, puedes revisar los siguientes enlaces:

---

<https://www.youtube.com/watch?v=kR-4tyRsQ1c>

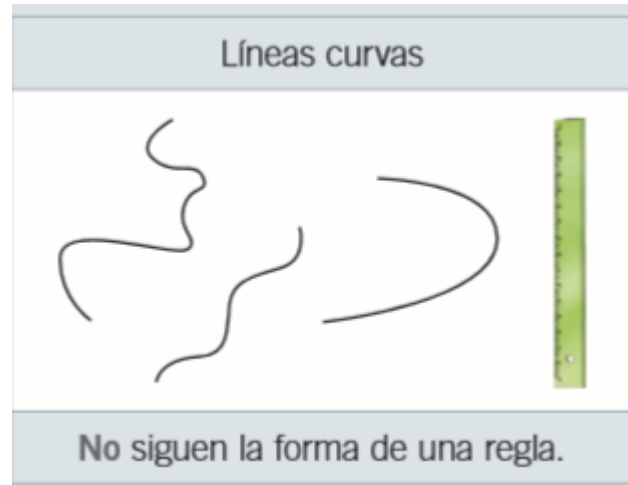
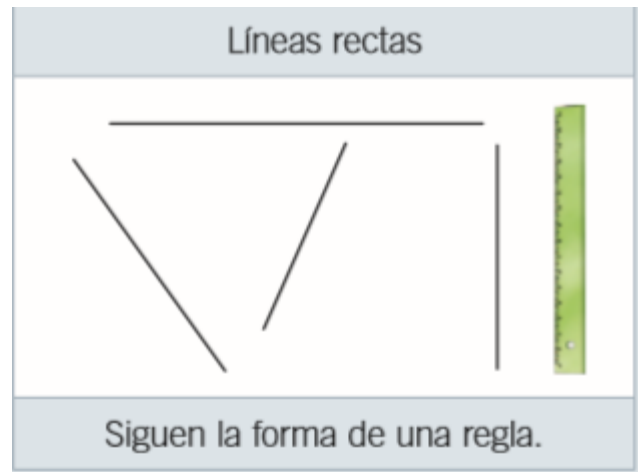
[https://www.youtube.com/watch?v=F\\_Hc1aOAYHw](https://www.youtube.com/watch?v=F_Hc1aOAYHw)



Ahora conceptualiza en tu cuaderno:

## Líneas rectas o curvas

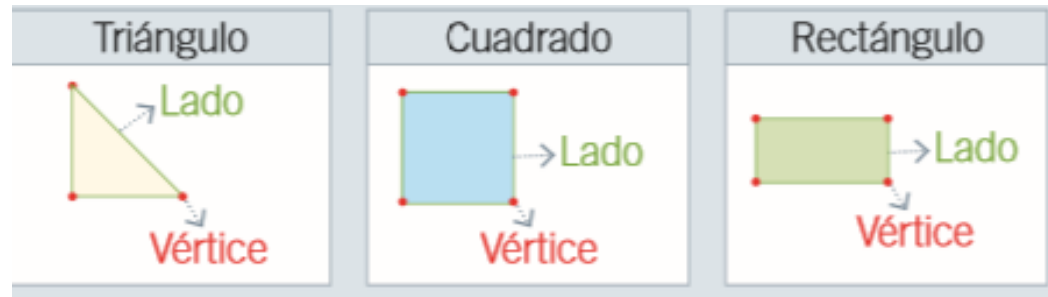
Las líneas pueden ser rectas o curvas.



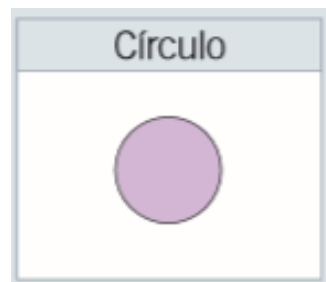
## Figuras geométricas

Las figuras geométricas tienen 2 dimensiones y se pueden dibujar usando líneas rectas y curvas.

- Figuras geométricas con líneas rectas.



- Figura geométrica con líneas curvas.



Finalmente trabaja en la  
guía “ líneas y figuras ”

