

Guía de trabajo 1° Básicos
Matemática: Semana 3
Leer y representar números hasta 20
Actividad 4

| | | |
|---------|--------|--------|
| Nombre: | Curso: | Fecha: |
|---------|--------|--------|

Objetivos de Aprendizaje:

OA 03. Leer números del 0 al 20 y representarlos en forma concreta, pictórica y simbólica., oa8 identificar valor posicional de los números.

Valor posicional


1



| Decenas | Unidades |
|---------|----------|
| 1 | 4 |

14 = 1 decena 4 unidades


2



| Decenas | Unidades |
|---------|----------|
| | |

12 = decena unidades

3




| Decenas | Unidades |
|---------|----------|
| | |

16 = decena unidades

(1) Observa los dibujos.
Completa los espacios en blanco.


10



1 decena 3 unidades

(a)

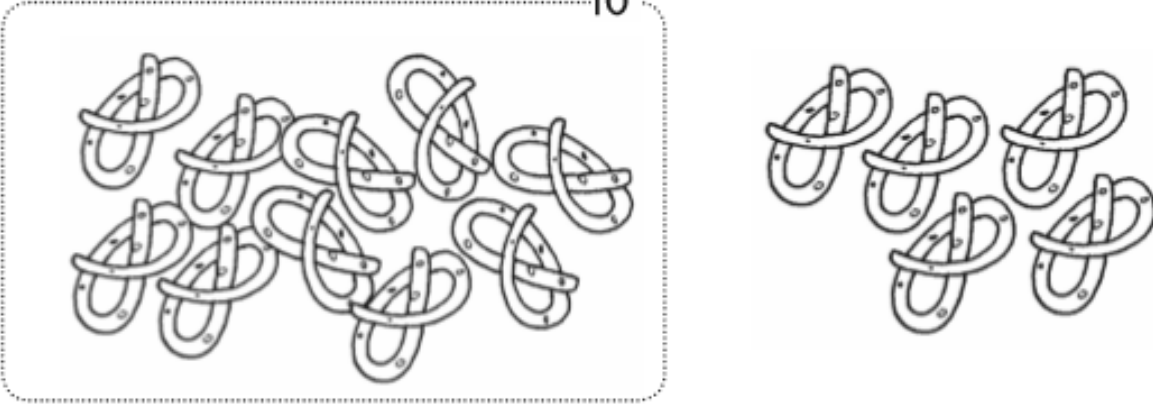
10



decena unidades

(b)

10



decena unidades

(2) Completa las tablas de valor posicional.

| 19 | Decenas | Unidades |
|-----------|---------|----------|
| | 1 | 9 |

(a)

| 11 | Decenas | Unidades |
|-----------|---------|----------|
| | | |

(b)

| 12 | Decenas | Unidades |
|-----------|---------|----------|
| | | |

(c)

| 15 | Decenas | Unidades |
|-----------|---------|----------|
| | | |

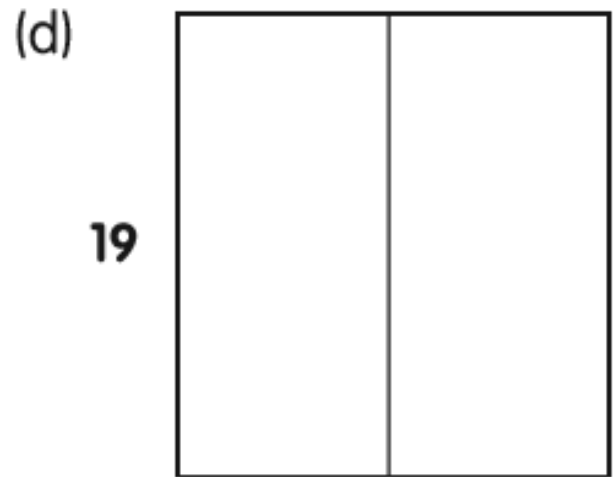
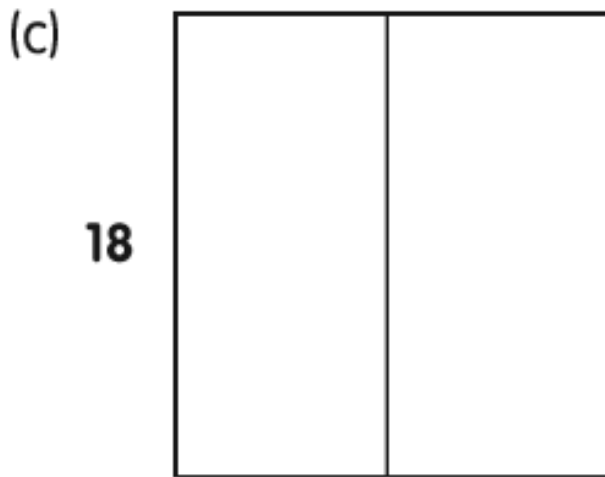
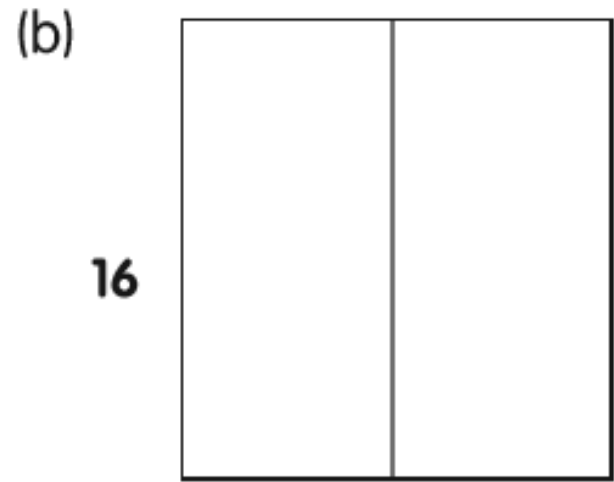
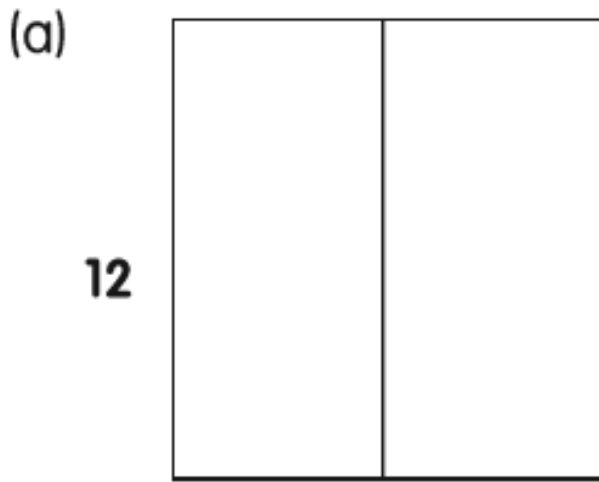
(d)

| 20 | Decenas | Unidades |
|-----------|---------|----------|
| | | |

(3) Representa el número.

Dibuja para las decenas y para las unidades en las tablas de valor posicional.

| | | |
|-----------|--------------------------|----------------------------------------------------------------------------|
| 13 | <input type="checkbox"/> | <input type="checkbox"/> <input type="checkbox"/> <input type="checkbox"/> |
| | | |



(4) Observa las tablas de valor posicional.
¿Qué números representan?

