

**Guía de trabajo 1° Básicos**  
**Matemática: Semana 3**  
**Leer y representar números hasta 20**

**Actividad 3**

<b>Nombre:</b>	<b>Curso:</b>	<b>Fecha:</b>
----------------	---------------	---------------

**Objetivo de Aprendizaje:**

**OA 03.** Leer números del 0 al 20 y representarlos en forma concreta, pictórica y simbólica.

**1.- Pinta la cantidad de cuadros necesarios para representar cada número.**

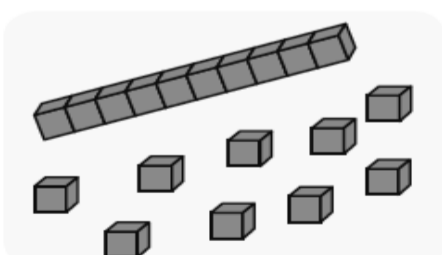
a. 12 → 

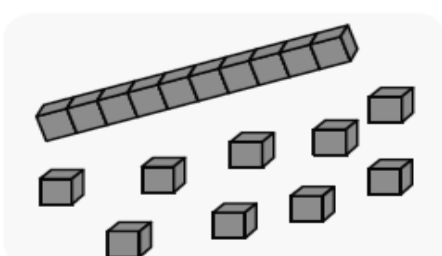

b. 15 → 

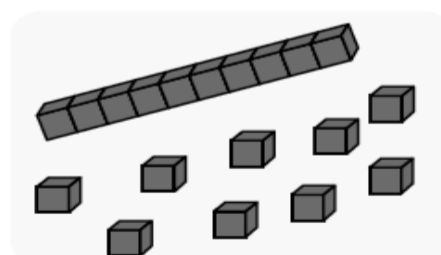

c. 16 → 

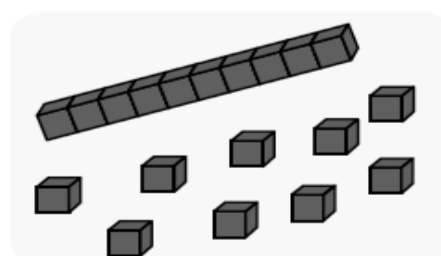

d. 14 → 


**2.- Encierra la cantidad de cubos necesarios para representar cada número.**


a. 13 

b. 17 


c. 18 

d. 19 

3.- Une cada conjunto con el número correspondiente:



11




18





13

20

4.- Escribe el número representado

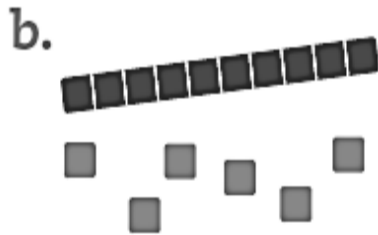







5.- Escribe los números representados en cada caso.



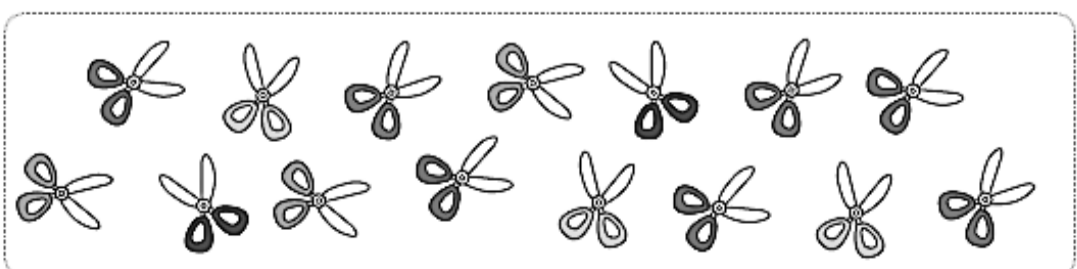





6.- Tacha la cantidad de elementos que indica cada número.


a.

11



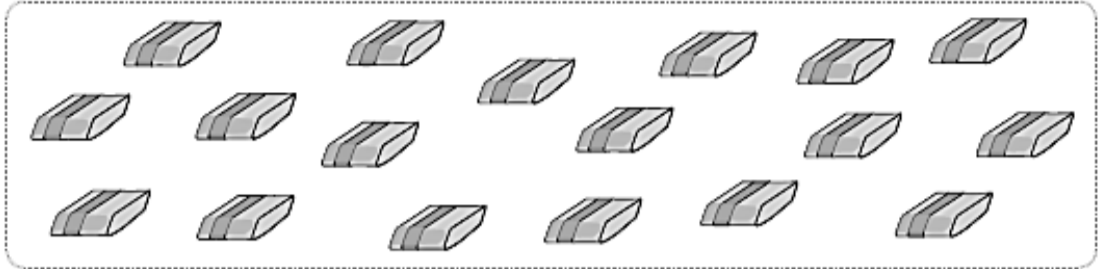
b.

15



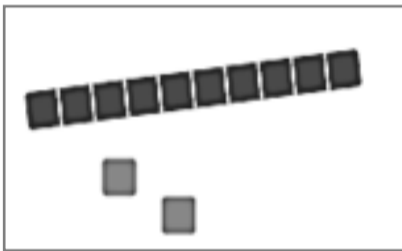
c.

14



7.- Dibuja representando en barrita de 10 la decena y cubitos las unidades sueltas en cada número.

Ejemplo:



12

El número 12 tiene: 1 decena (una barrita) y dos unidades (cubitos) sueltas.



15



13



18