

Guía de trabajo 1° Básicos
Matemática: Semana 3
Leer y representar números hasta 20


Actividad 2

Nombre:	Curso:	Fecha:
----------------	---------------	---------------


Objetivo de Aprendizaje.

OA 03. Leer números del 0 al 20 y representarlos en forma concreta, pictórica y simbólica.

(1) Escribe los números que correspondan.




10




11


(a)




10




(b)




10



(c)



10



(d)



(2) Encierra en un círculo diez objetos.

Pinta el resto.

Escribe la cantidad total de objetos.




12

(a)



(b)

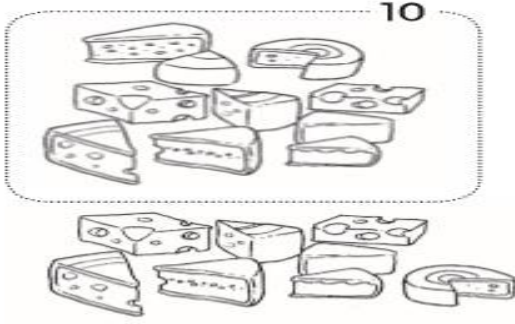


(c)



(3) Completa los espacios en blanco.


(a)



10 y 8 hacen _____.

$$10 + 8 = \underline{\hspace{2cm}}$$


(b)



10 y 3 hacen _____.

$$10 + 3 = \underline{\hspace{2cm}}$$


(c)



10 y 9 hacen _____.

$$10 + 9 = \underline{\hspace{2cm}}$$

(d)



10 y 6 hacen _____.

$$10 + 6 = \underline{\hspace{2cm}}$$


(4) Completa los espacios en blanco.


(a) 10 y 2 hacen _____. (b) 10 y 5 hacen _____.
 (c) 10 y 4 hacen _____. (d) 10 y 7 hacen _____.

(5) Suma.

(a) $10 + 3 =$ _____ (b) $10 + 4 =$ _____
 (c) $10 + 5 =$ _____ (d) $10 + 6 =$ _____
 (e) $10 + 9 =$ _____ (f) $10 + 10 =$ _____
 (g) $2 + 10 =$ _____ (h) $8 + 10 =$ _____

(6) Escribe con palabras el número que corresponda.

10

 _____ **once** _____

(a) 10


(b) 10
