

Objetivos: Conocer duración de los sonidos, representación gráfica.

Comprender función de la cifra indicadora.

Diferenciar compases de distinta cifra indicadora.

Guía N° 2

Actividad

Para responder la guía debe copiarla o imprimirla y luego desarrollarla. Este trabajo será solicitado por tu profesora más adelante.

De acuerdo a la cantidad de tiempos de cada compás señale cuál es su cifra indicadora.


EJEMPLO




La respuesta es
4/4 (cuatro
cuartos) →



a)



b)




c)



d)




e)




f)



g)



h)



i)

