

Objetivos: Conocer duración de los sonidos, representación gráfica.

Comprender función de la cifra indicadora.

Diferenciar compases de distinta cifra indicadora.

Identificar nombre de la nota musical según su ubicación en el pentagrama

Guía N° 2

Actividad

Para responder la guía debe copiarla o imprimirla y luego desarrollarla. Este trabajo será solicitado por tu profesora más adelante.

I.- De acuerdo a la cantidad de tiempos de cada compás señale cuál es su cifra indicadora.


EJEMPLO




La respuesta es
4/4 (cuatro
cuartos) →



a)



b)



c)




d)




e)




f)




g)



h)



i)



II.- Anote el nombre de las notas musicales de la siguiente melodía

