



## GUÍA DE TRABAJO EN CASA N°5

### UNIDAD 1: Trabajar con mapas y conocer nuestro país

<i>Nombre</i>	<i>Curso</i>	<i>Fecha</i>
	2° ____	____/____/2020
<b>Tiempo estimado de trabajo: 30 minutos aproximadamente</b>	<b>Habilidad:</b> Leer y comunicar información geográfica a través de distintas herramientas (planos, mapas, globos terráqueos y diagramas).	
<b>Objetivos de aprendizaje:</b> Ubicar Chile, Santiago, la propia región y su capital en el globo terráqueo o en mapas, y describir la ubicación relativa de países limítrofes y de otros países de América del Sur, utilizando los puntos cardinales. <b>(OA7)</b> .		

**RECUERDA:** Los mapas son instrumentos muy interesantes, ahí podemos adquirir muchos conocimientos, tanto de nuestro país, como de nuestros vecinos y el resto del mundo, pero para eso debemos conocer algunos conceptos claves.

**I. Antes de comenzar: Chile en el planisferio, globo terráqueo y mapa de América del Sur.**

¿Puedes ubicar Chile en las distintas representaciones?  
Píntalo de color rojo



## II. Capital de Chile y región donde vives.



A. ¿Cuál es la capital de Chile?

\_\_\_\_\_

B. Observa el Mapa y encierra en un Círculo de color rojo la capital de Chile.

C. ¿Cuál es el nombre de la región donde vives?

\_\_\_\_\_

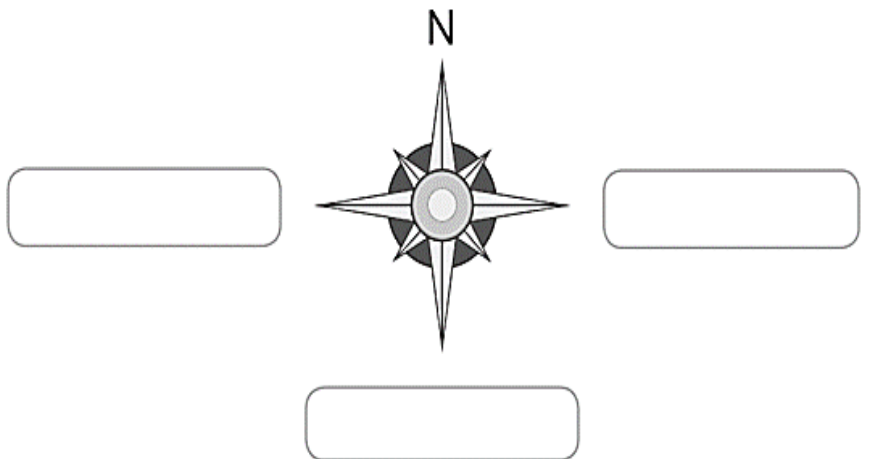
D. Observa el Mapa y encierra en un círculo de color rojo la capital de la región donde vives.

E. ¿Cuál es la ciudad capital de tu región?

\_\_\_\_\_

Los puntos cardinales se representan en la **Rosa de los vientos**, la que señala hacia donde está orientado el plano o mapa.

Completa la Rosa de los vientos, escribiendo los puntos cardinales en los recuadros.

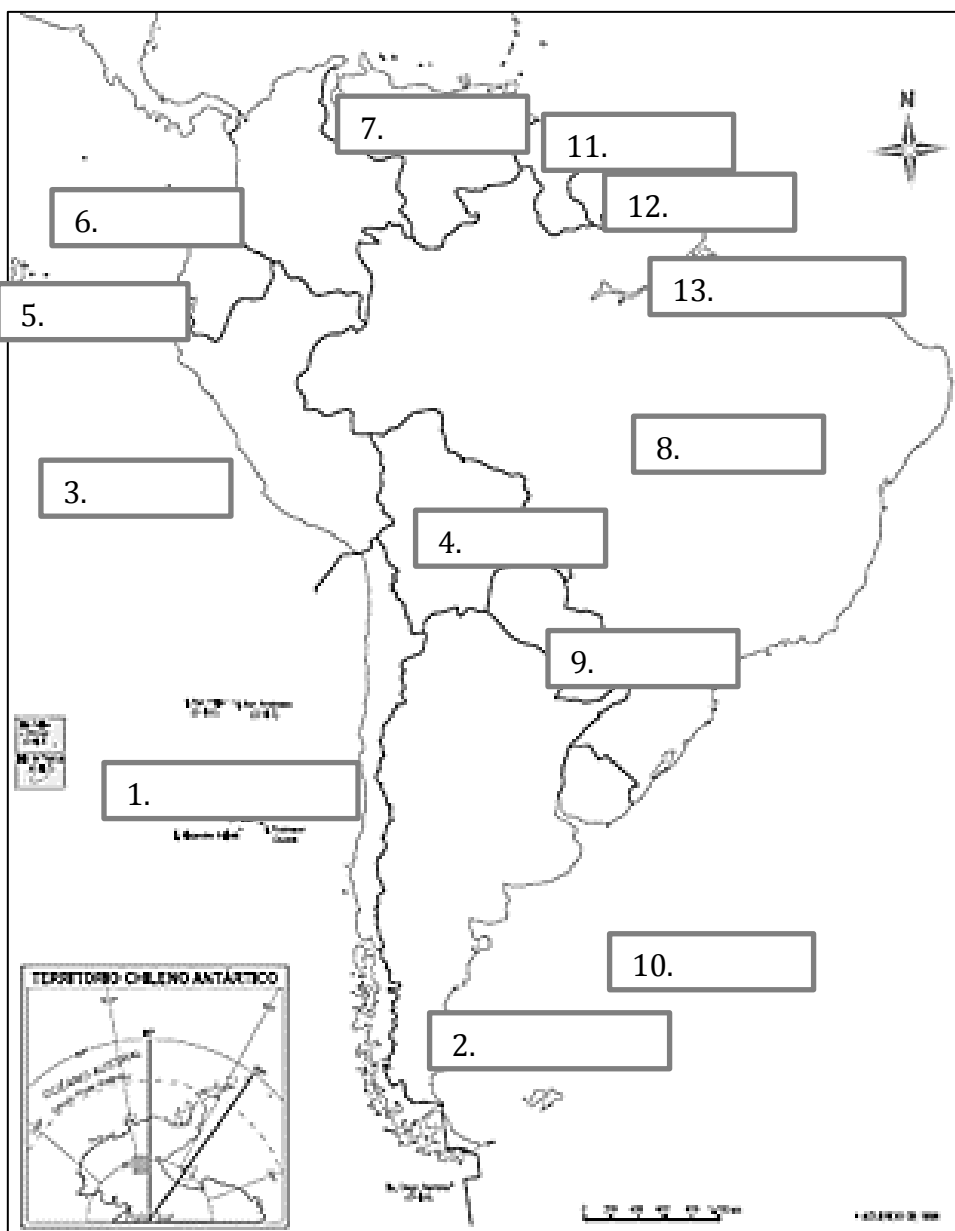




### III. Países de América del Sur en un mapa.

A. Pinta cada país y colorea con un color diferente y completa el mapa con el país que corresponda.

1. Chile
2. Argentina
3. Perú
4. Bolivia
5. Ecuador
6. Colombia
7. Venezuela
8. Brasil
9. Paraguay
10. Uruguay
11. Guyana
12. Surinam
13. Guyana Francesa (Colonia de Francia)



B. ¿Qué países limitan con Chile, es decir, sus vecinos?

-----

-----

-----



**IV. Países limítrofes de Chile.**

A. Observa el mapa y completa.

Chile limita al Norte con \_\_\_\_\_.

Chile limita al Este con \_\_\_\_\_  
 y con \_\_\_\_\_.

Chile limita al Oeste con \_\_\_\_\_  
 \_\_\_\_\_.

Chile limita al Sur con el \_\_\_\_\_  
 \_\_\_\_\_.



B. ¿Con cuántos países limita Chile?

\_\_\_\_\_ ✓

C. Completa el recuadro colocando el ticket donde corresponda.

Situación	Norte	Sur	Este	Oeste
Si estoy en Chile y quiero viajar a Perú, me debo dirigir hacia el...				
Si una persona está en Argentina y necesita viajar a Chile, debe ir hacia el...				
Si estoy en Brasil y quiero viajar a Bolivia, debo dirigirme hacia el...				
Si estoy en Perú y quiero viajar a Chile, debo dirigirme hacia el...				



**V.- Ubicación relativa de países de América del Sur.**

A. Describe la ubicación de Chile utilizando puntos cardinales.

Ejemplo: Chile se encuentra al sur de Perú, al Oeste de Argentina, al Este del océano pacífico y al norte del polo sur.

B. Describe la ubicación de Perú utilizando los puntos cardinales.

-----  
-----

C. Describe la ubicación de Argentina utilizando los puntos cardinales.

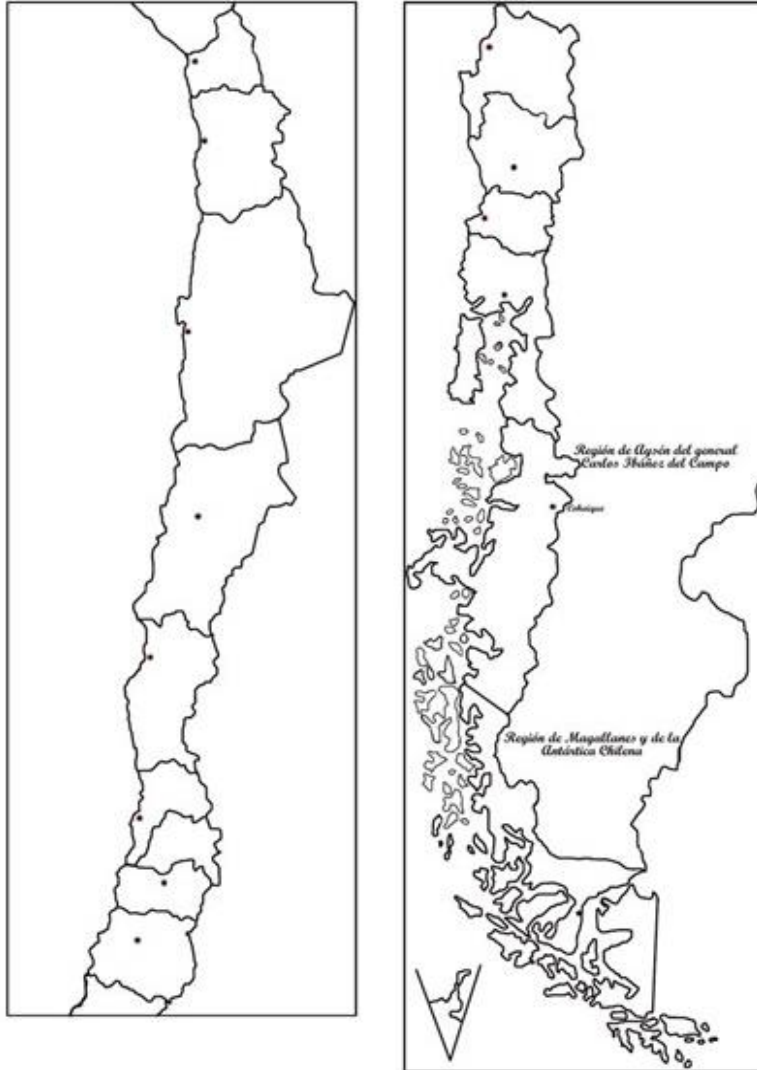
-----  
-----

D. Describe la ubicación de Bolivia utilizando los puntos cardinales.

-----  
-----



## VI.- Observa el siguiente mapa mudo de Chile:



Completa el mapa anterior, siguiendo las instrucciones que se indican.

- Marca la capital de Chile con una estrella amarilla.
- Pinta de color rojo, la región donde vives y escribe su nombre.
- Utilizando los puntos cardinales, ubica las regiones que limitan la región donde vives y píntalas de color verde.
- Responde las siguientes preguntas, respecto de la región donde vives.

¿Qué tan lejos está tu comuna de la capital de Chile?

---

¿Tu comuna está al sur, al norte, al este o al oeste de Santiago?

---

Averigua ¿cuáles son las tres ciudades más importantes de tu país? ¿En qué región están ubicadas?

---

**RECUERDA ESCRIBIR LA FECHA Y PEGAR LAS GUÍAS EN TU CUADERNO, ARCHIVARLAS EN UNA CARPETA O COPIARLA EN EL CUADERNO PARA SU POSTERIOR REVISIÓN.**

**También puedes enviarlas al correo de tu profesora.**