



Apoyo “Chile en el mapa”

HISTORIA, GEOGRAFÍA Y CIENCIAS SOCIALES

2° BÁSICO

PROFESORA: MARÍA PAZ ZÚÑIGA

Objetivo: Localizar Chile en diferentes tipos de mapas

Escribe en tu cuaderno el siguiente objetivo, no olvides colocar la fecha, respetar las mayúsculas y los signos de puntuación.

Los mapas

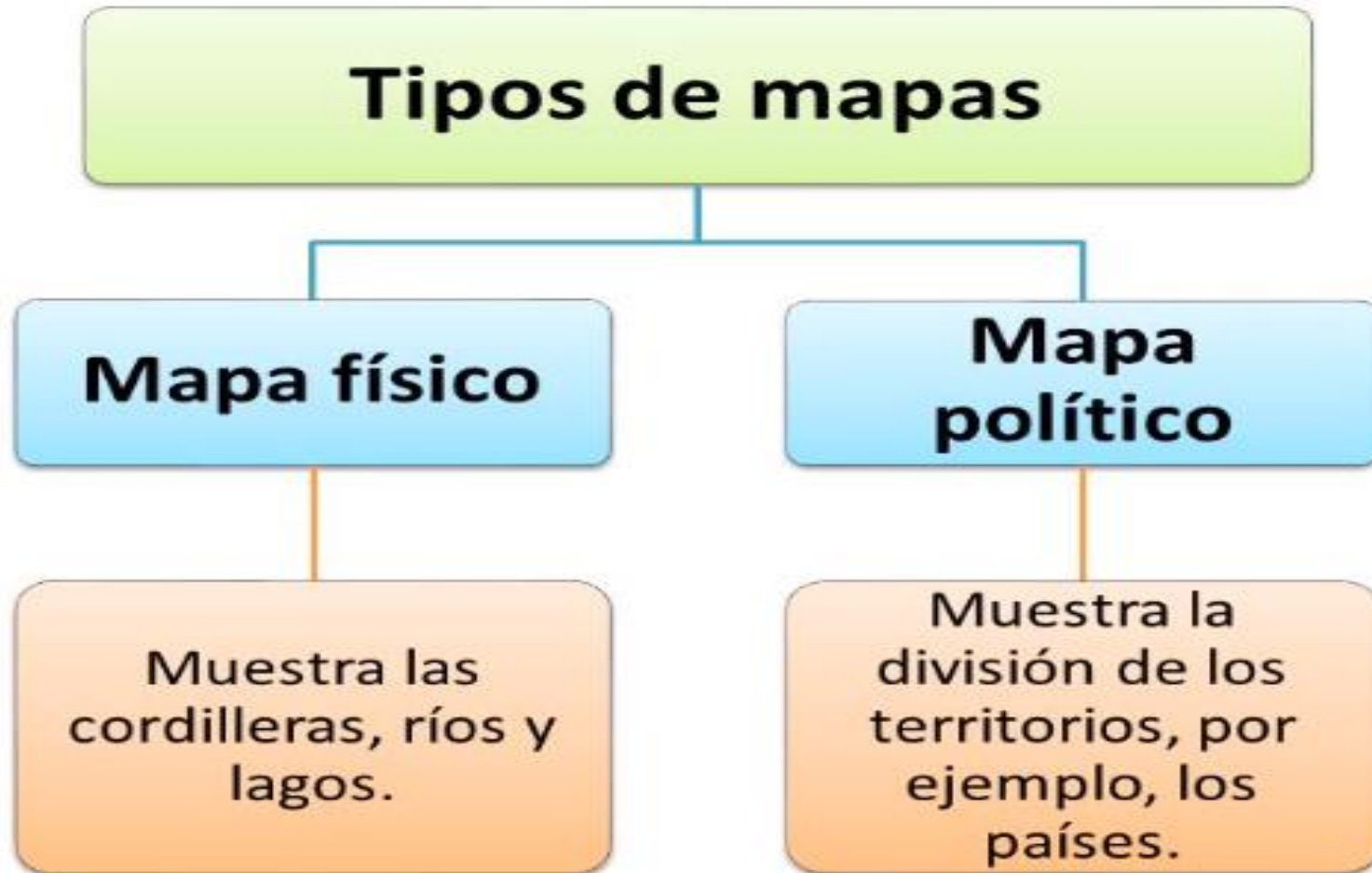
También, podemos representar a la Tierra por medio de mapas.

No todos los mapas son iguales. Algunos pueden mostrar la Tierra entera o parte de ella, como países, ciudades o regiones.



Escribe en tu cuaderno

¿Qué tipos de mapas hay?



Los mapas

Una forma de representar espacios más grandes

Lee y comenta

Los **mapas** también representan la superficie terrestre o una parte de ella. En ellos se usan símbolos y colores para informar de las características de la zona representada, como ríos, montañas o carreteras. Asimismo, tienen señalados los puntos cardinales y muestran la realidad a escala.

Los mapas muestran territorios más grandes que los planos, como **países** y **continentes**. Este año utilizaremos dos tipos de mapas:

Mapas físicos



Estos mapas nos muestran las características naturales de la superficie terrestre, como por ejemplo, los lugares donde hay cerros, cordilleras, valles, ríos y lagos.

Mapas políticos



Estos mapas muestran hasta dónde llega un territorio y dónde comienza otro. Señalan los límites o fronteras entre distintos lugares o países.

Escribe en tu cuaderno

Mapa físico de América del Sur



- El **mapa físico** representa elementos del paisaje. En particular, muestra las cordilleras, ríos y lagos de un lugar.

Escribe en tu cuaderno

Mapa político de América del Sur

El **mapa político** muestra la división entre los territorios, por ejemplo, entre los países.

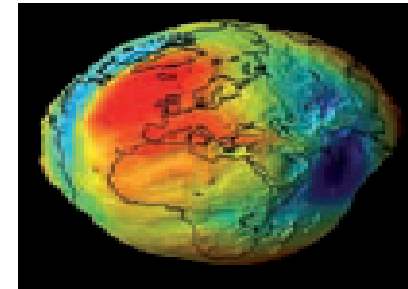


Globo terráqueo y mapamundi

Lee y comenta

Si quisiéramos ver la totalidad de la Tierra, deberíamos salir al espacio. Como esto no es posible para todos, se han buscado formas de representar a todo el planeta, como el globo terráqueo y el mapamundi.

- Muchas fotografías muestran a la Tierra redonda, pero en realidad tiene una forma irregular, que los científicos llaman **geoide**.



- El **globo terráqueo** representa a la tierra como un cuerpo esférico, pero tiene algunas desventajas. Por ejemplo, no permite ver toda la superficie de la Tierra de una vez y son difíciles de transportar si nos vamos de viaje.

- Para solucionar estas dificultades, se creó el **planisferio** o **mapamundi**, que es un mapa que nos permite ver toda la superficie de la Tierra de una sola vez y es fácil de transportar.



Escribe en tu cuaderno

El planisferio o mapamundi

El **planisferio** o **mapamundi** es un mapa que representa a la Tierra completa en forma plana.



Escribe en tu cuaderno, solo la definición del globo terráqueo

La forma más exacta de representar a la Tierra es el **globo terráqueo**, ya que la representa con su forma esférica.

¿Cuál de las siguientes imágenes muestra un globo terráqueo?



Escribe en tu cuaderno

El planisferio y los continentes

Los **continentes** son porciones grandes de tierra que agrupan varios países. Hay 6: **América, África, Europa, Asia, Oceanía y Antártica.**



América se divide en tres: América del Norte, América Central y América del Sur. Chile se ubica en este último.

Océanos y continentes

Lee y comenta

La superficie de nuestro planeta está formada por **océanos** y **continentes**. Los océanos son grandes extensiones de agua salada, mientras que los continentes son grandes extensiones de tierra y rocas.



Los océanos son: el Pacífico, el Atlántico, el Índico, el Glacial Ártico y el Océano Austral.



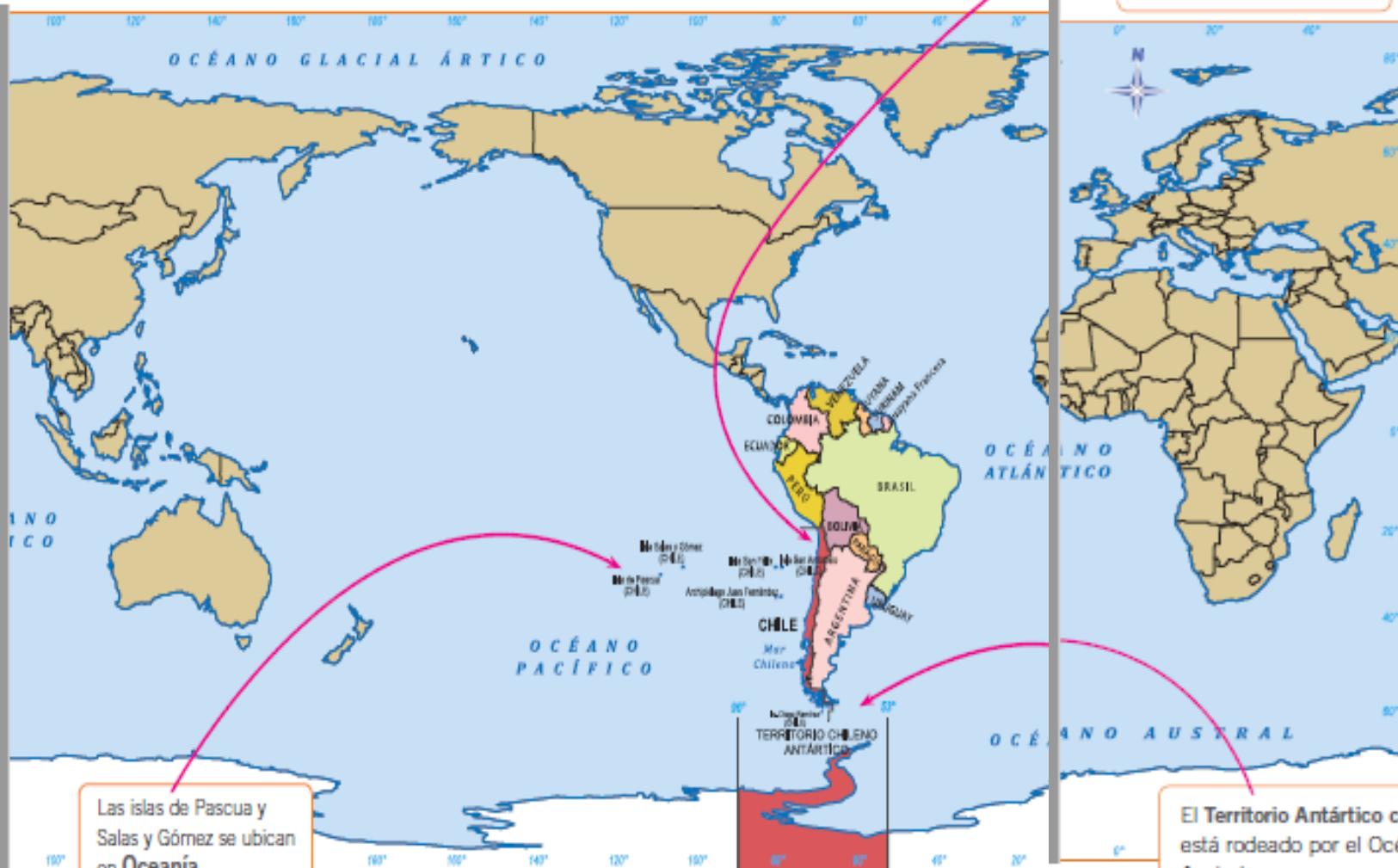
Nuestro país en el mapa

Chile y su territorio

Lee y comenta

Una característica particular de Chile es que tiene territorios en tres continentes: en América, en Oceanía y en la Antártica. Por esta razón, nuestro país es **tricontinental**.

El territorio de Chile en América del Sur es largo y angosto. Limita con varios países y tiene una extensa costa.



Las islas de Pascua y Salas y Gómez se ubican en **Oceanía**.

El Territorio Antártico chileno está rodeado por el Océano Austral.

Practica

2. ¿Cuántos países tiene América del Sur? *Reconocer*
3. Observa el mapamundi y completa la oración uniendo con una línea según corresponda. *Asociar*

Chile limita al:

- a. norte con...
- b. al noreste con...
- c. al este con...
- d. al oeste con...

Argentina

Bolivia

Océano Pacífico

Perú

Sintetiza

4. Encierra con un **O** la respuesta correcta. *Aplicar*
 - a. ¿Con cuántos países limita Chile en América?
 - b. ¿En cuántos continentes tiene territorios Chile?
 - c. ¿Cuántos océanos bañan el territorio chileno?

1 2 3

1 2 3

1 2 3



En este mapa, América está en el centro del mapamundi y vemos el océano Pacífico en toda su extensión.

¿Dónde está Chile?

Chile es un país tricontinental, tiene presencia en **América**, la **Antártida** y algunas de sus islas, como Rapa Nui, están en la Polinesia, **Oceanía**.

Recurso 1 En el mundo existen seis continentes: América, Asia, Antártida, Oceanía, Europa y África; y cinco océanos: Pacífico, Atlántico, Índico, Austral y Glacial Ártico.

Chile en el mundo



Fuente: archivo editorial.

- 1 ¿Qué información nos entrega este mapa?, ¿para qué nos sirve?
- 2 Elabora una **simbología** para reconocer la información que muestra el mapa. Utiliza los mismos colores.

América se divide en tres: América del Norte, América Central y América del Sur.

Chile en América del Sur



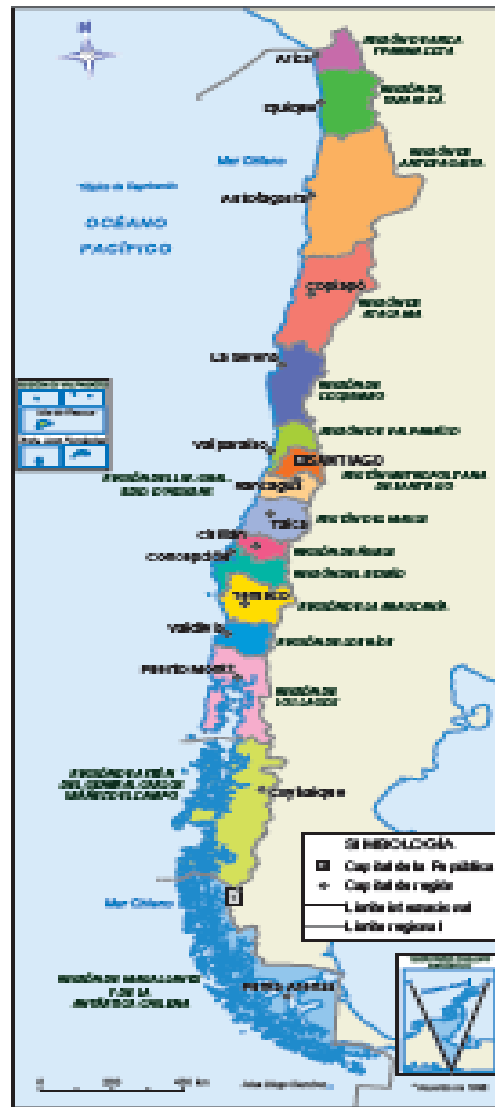
» Vocabulario

Limite: línea imaginaria que separa dos territorios.

¿Cómo es Chile?

Chile se divide en 16 regiones y cada una de ellas tiene su capital.

Recurso 1 Chile y sus regiones.



Fuente: archivo editorial.

Regiones

 Arica y Parinacota	 Maule
 Tarapacá	 Ñuble
 Antofagasta	 Biobío
 Atacama	 La Araucanía
 Coquimbo	 Los Ríos
 Valparaíso	 Los Lagos
 Metropolitana de Santiago	 Aysén del General Carlos Ibáñez del Campo
 Libertador General Bernardo O'Higgins	 Magallanes y de la Antártica Chilena

- 1 Ubica tu **región** y su capital regional.
- 2 ¿Con qué lugar limita tu región por el norte, sur, este y oeste?
- 3 ¿Qué límite o límites tienen en común todas las regiones del país? Explica.

Escribe en tu cuaderno

¿Qué aprendimos hoy?

Responde las siguientes preguntas para revisar lo aprendido:

- A) ¿Qué características tienen los mapas físicos y los mapas políticos?
- B) ¿Cuántos continentes hay?
- C) ¿En qué continente se ubica Chile?

Aprendiendo técnicas

¿Cómo leer la información que entrega un mapa?

Un mapa entrega diversa información, por lo que es importante saber leerlos. Estos pasos te ayudarán a interpretar un mapa:



Practica



2. Completa la ficha. Relacionar

- La dirección de mi casa es

- Mi casa queda en la región de

- La capital de mi región es

Sintetiza

3. Subraya el concepto correcto. Analizar

- a. En Chile hay quince: regiones países

- b. Chile tiene varias capitales: regionales nacionales

Ponte a prueba

1. Pinta todas las opciones correctas en cada caso.

- a. Chile tiene territorios en...

América

Europa

África

Asia

Antártica

Oceanía

- b. En América, Chile limita con...

Argentina

Bolivia

Brasil

Ecuador

Perú

Uruguay

- c. Chile tiene...

regiones

países

capitales