




Matemática
Segundos Básicos

Nombre	Curso	Fecha
	2º básico	___/___/ 2020

Objetivo de aprendizaje

Identificar el orden de los elementos de una serie, utilizando números ordinales del primero (1º) al décimo (10º).

1. Observa la imagen y sigue las instrucciones. (Enumere los pisos del edificio)

	Enumere los pisos del edificio:
	Marque con una X las ventanas del quinto piso.
	Encierre con una línea una ventana del tercer piso.
	Dibuje una estrella en una ventana del octavo piso.
	Pinte una ventana del sexto piso.





2. Los niños van a la fiesta de Margarita. Observe la imagen:















Izquierda

Derecha

a) Complete según la posición en que se encuentran los niños (de derecha a izquierda).

	Va en 1º lugar
	Va en..... lugar
	Va en..... lugar
	Va en lugar

b) Encierre en un círculo la respuesta correcta.

a)	En el séptimo lugar va:			
b)	En el quinto lugar va:			
c)	En el noveno lugar va:			
d)	En el décimo lugar va:			

3. Si en la lista del curso estoy entre el séptimo y noveno lugar. ¿En qué lugar me encuentro?


(Encierre la respuesta en un círculo.)

Quinto

Octavo

Décimo

4. Observe estas imágenes:



a) Una los niños de la competencia con el podio de acuerdo al orden en que llegaron:

